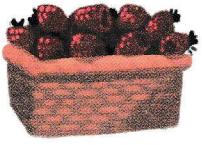


1 Zobacz, co dzieci kupiły na targu. Policz i zapisz, ile zapłaciły.

W którym koszyku są najdroższe zakupy? Postaw przy nim **x**.

Za które zakupy zapłacono najmniej? Postaw przy tym koszyku **o**.



6 zł

1 zł

1 zł

3 zł


4 zł

2 zł


5 zł



zł





zł



zł

☀️ Połącz z koszykiem takie produkty, aby zakupy kosztowały 10 zł. Spróbuj zapisać swoje obliczenia.



10 zł