










1 Nazwij zwierzęta w zagrodach.

★ Sprawdź w tabeli, ile dorosłych i młodych zwierząt powinno być w zagrodach. Czy wszystkie zwierzęta są w zagrodach? Dorysuj brakujące zwierzęta.

								
••	••	••••	••	••••	••••	•	••••	••••

