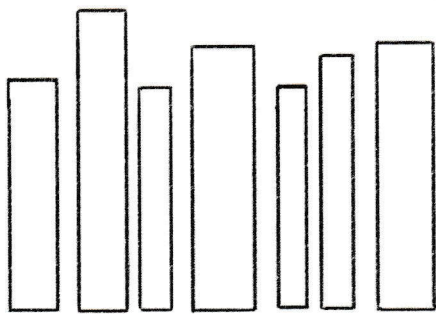
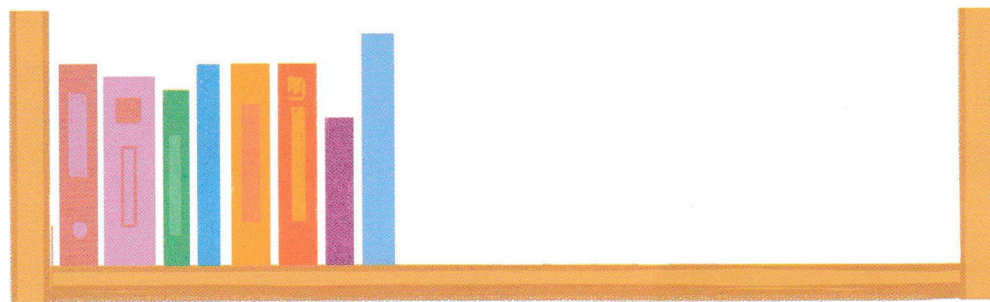


1 Dorysuj książki, żeby było ich tyle, ile wskazuje liczba na kartoniku.





■ Pokoloruj na czerwono 3., 5. i 7. książkę. Najwyższą książkę pokoloruj na niebiesko. Najniższą – na pomarańczowo. Pozostałe książki pokoloruj dowolnie.

2 Policz, ile książek ma Emilka w swojej bibliotece. Wczoraj dziewczynka dostała jeszcze dwie książki. Doklej je na półkę. Ile książek ma teraz Emilka? Zapisz obliczenie.



$$\square + \square = \square$$

3 Patryk miał 10 książek. Dzisiaj Kuba pożyczył od niego 5 książek o samochodach. Narysuj na półce Patryka tyle książek, ile ma teraz, i zapisz obliczenie.



$$\square - \square = \square$$

