



# 11




$$10 + 1 = 11$$


**1** Gutek, Sara i Bartek budowali konstrukcje z klocków. Policz, ile klocków miało każde dziecko. Sprawdź, które dziecko wykorzystało do budowy najwięcej klocków. Ile klocków zostało każdemu dziecku? Uzupełnij działania.



$$10 - 4 = \begin{array}{|c|c|} \hline & \\ \hline & \\ \hline \end{array}$$



$$10 - 3 = \begin{array}{|c|c|} \hline & \\ \hline & \\ \hline \end{array}$$



$$11 - 1 = \begin{array}{|c|c|} \hline & \\ \hline & \\ \hline \end{array}$$

**2** Dzieci przeskakiwały kałuże. Po ile przeskakiwała **Karolina**, a po ile – **Olek**. Uzupełnij brakujące liczby.

